







Przeczytaj zadania. Zilustruj je. Wpisz odpowiednie liczby w działaniach matematycznych. Przeczytaj te działania. Odpowiedz na pytania z zadań.

Hania kupiła 3 tulipany dla mamy. Jej brat Hubert też kupił 3 tulipany. Ile razem   dostała mama?



	+		=	
--	---	--	---	--

Gabrysia wyhodowała dla mamy kaktusy – aż 8.

Tata kupił 2 kaktusy. Ile razem   dostanie mama?



	+		=	
--	---	--	---	--



- Powiedz, gdzie idą rodzice Mikołaja. Narysuj ich drogę.



- Obejrzyj obrazki. Powiedz, czy dzieci zachowują się właściwie względem rodziców. Pokoloruj okienka z wybranymi odpowiedziami.



tak    nie



tak    nie



tak    nie



tak    nie



tak    nie



tak    nie